

104 學年度教育部國民及學前教育署
身心障礙學生適性輔導安置

高中職特教班學生基本學習能力評估

題 本

請注意：

- 一、聽候指示，才可以翻頁！
- 二、作答的時候，所有答案的選項都寫在答案紙上！
- 三、若未依例題作答方式填答，則不予計分！

中 華 民 國 104 年 4 月 18 日

高中職特教班學生基本學習能力評估作答說明

- 一、請確認答案紙上是否已填上自己的姓名、能力評估證號碼、性別欄及目前就讀國中。
- 二、題本中共有 50 題選擇題，每題都有四個不同的答案選項，其中只有一個是正確的，請依題號將正確答案的選項號碼填寫在答案紙上的空格中。
- 三、請不要在答案紙上做其他記號，若要計算，請在題本空白處計算。

四、例題說明：

例題 1：「電線桿上的麻雀，□□□□的叫著，好不熱鬧。」

請問□□□□最適合填入下列哪一個語詞？

- | | |
|----------|----------|
| (1) 嘰嘰喳喳 | (2) 淅瀝淅瀝 |
| (3) 嘩啦嘩啦 | (4) 叮叮噹噹 |

說明：正確答案的選項是 (1)，所以在答案紙上將例題 1 答案空格中填入 1。

例題 2：哥哥過生日，媽媽買了一個蛋糕，要平分給全家五個人，每個人可以吃到多少蛋糕？

- | | |
|----------|----------|
| (1) 二分之一 | (2) 五分之一 |
| (3) 六分之一 | (4) 七分之一 |

說明：正確答案的選項是 (2)，所以在答案紙上將例題 2 答案空格中填入 2。

- 五、作答時間：50 分鐘，聽到鐘聲響後才可以翻頁作答。


實用語文

1. 「討論時，有意見就要表達，不要總是放『馬後炮』」。請問語句中『馬後炮』是用來形容哪一種人？
(1) 喜歡在事後放鞭炮的人。 (2) 在事後才發表意見的人。
(3) 討論時愛發表意見的人。 (4) 對討論內容沒意見的人。
2. 「他上班總是遲到、早退，難怪會被老闆『炒魷魚』」。請問語句中『炒魷魚』的意思與下列哪一個選項相同？
(1) 扣錢 (2) 加菜 (3) 開除 (4) 責備
3. 「媽媽最喜歡吃這家的咖哩□麵。」請問語句中的□內適合填入下列哪一個字？
(1) 拌 (2) 伴 (3) 絆 (4) 畔
4. 請問下列哪一個選項中的句子用字完全正確？
(1) 郵差幫大家送信和包裹。 (2) 醫生醫治生病受商的病人。
(3) 驚察維護社會的治安。 (4) 老師教學生做人處事的到理。
5. 「姊姊的功課已經快寫不完，對我的課業問題也『愛莫能助』。」請問句中『愛莫能助』的意思和下列哪一選項意思相似？
(1) 愛屋及烏 (2) 愛不釋手 (3) 無法無天 (4) 無能為力

~下頁還有題目，請繼續作答~

6. 請問右圖要與下列哪一句成語配對較為適合？

- (1) 斬草除根 (2) 寸草不生
(3) 草木皆兵 (4) 打草驚蛇



7. 「但是像我」、「得到許多祝福」、「許多朋友」、「這樣的人」、「卻能擁有」

請問下列哪一個選項中的句子才是正確的排列順序？

- (1) 「許多朋友」「這樣的人」「卻能擁有」「得到許多祝福」「但是像我」。
(2) 「得到許多祝福」「但是像我」「許多朋友」「這樣的人」「卻能擁有」。
(3) 「這樣的人」「許多朋友」「但是像我」「得到許多祝福」「卻能擁有」。
(4) 「但是像我」「這樣的人」「卻能擁有」「許多朋友」「得到許多祝福」。
8. 「天啊□這個暑假你竟然胖了三公斤□你到底是吃了什麼東西□」

請問語句中的□……□……□內應該填入下列哪一組標點符號？

- (1) ! 。 ? (2) ? 、 。 (3) ? : ! (4) ! 。 ;

請閱讀以下短文後，回答第 9 及第 10 題的問題：

小日記

星期六爸爸帶我們全家去墾丁露營，這是我第一次去露營，好開心喔！露營很好玩，可以自己煮東西吃、烤肉、玩水，還可以睡在帳篷裏，我和妹妹一下子就睡著了！媽媽說如果我們表現好的話，下個月還要帶我們去陽明山或是清境農場露營，我一定要加油，期待下次的露營！

9. 請問作者全家去哪一個地方露營？

- (1) 野柳 (2) 墾丁 (3) 陽明山 (4) 清境農場

~下頁還有題目，請繼續作答~

10. 請問下列哪一個選項的敘述與上述短文內容不符？

- (1) 作者是第一次去露營 (2) 作者露營時有去玩水
(3) 作者露營時睡得不好 (4) 作者覺得露營很好玩

11. 小許的電話號碼是：two-six-three-four-one-five-eight。請問下面哪一個選項是
小許的電話號碼？

- (1) 2163458 (2) 2164358 (3) 2643518 (4) 2634158

12. 便利商店有提供「ATM」的服務，請問「ATM」是什麼意思？

- (1) 購票服務 (2) 照相服務 (3) 提款服務 (4) 郵寄服務

13. 老師說：「Be quiet！」所以學生聽到後應該要怎麼做？

- (1) 保持微笑 (2) 保持安靜 (3) 保持冷靜 (4) 保持距離

14. If you want to get good grades, you have to study hard.

請問語句中「study hard」是什麼意思？

- (1) 用功讀書 (2) 努力工作 (3) 專心實驗 (4) 認真考慮

15. A: We want to buy the book. Have any discount?

B: Buy one, get one free.

從這段對話得知，下列哪一個選項是正確的？

- (1) 書本依原價出售 (2) 書本是買一送一
(3) 書本第二本半價 (4) 書本是完全免費

~下頁還有題目，請繼續作答~

實用數學

16. 如果今天是9月2日，請問明天是幾月幾日？

- (1) 9月2日 (2) 9月3日 (3) 9月4日 (4) 9月5日

17. 哥哥有 10 枝鉛筆、15 枝毛筆、9 枝原子筆和 7 枝彩色筆，請問哪一種筆的數量最少？

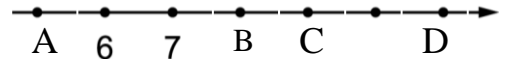
- (1) 彩色筆 (2) 原子筆 (3) 毛筆 (4) 鉛筆

18. 下列哪一個選項的寫法是正確的？

- (1) $23 > 26$ (2) $151 < 150$ (3) $159 > 195$ (4) $509 < 519$

19. 右邊這一條數線上，請問「9」應該是哪一點？

- (1) A (2) B (3) C (4) D



20. 請問下列哪一個是「三十點零二五八」的正確寫法？

- (1) 30.0258 (2) 30.258 (3) 3.0258 (4) 3.258

21. 請問 $18 - \square = 9$ ，下列哪一個選項是 \square 的答案？

- (1) 1 (2) 8 (3) 9 (4) 10

22. 請問 $270 + 40 = \square$ ，下列哪一個選項是 \square 的答案？

- (1) 2740 (2) 310 (3) 230 (4) 210

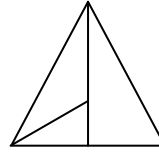
~下頁還有題目，請繼續作答~

23. 請問 $3.5 + 2.4 = \square$ ，下列哪一個選項是 \square 的答案？

- (1) 0.1 (2) 1.1 (3) 3.9 (4) 5.9

24. 請問右邊的圖形中有幾個三角形？

- (1) 3 (2) 4 (3) 5 (4) 6



25. 請問 $250 \times 32 \times 4 = \square$ ，下列哪一個選項是 \square 的答案？

- (1) 32000 (2) 6000 (3) 2000 (4) 286

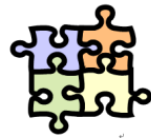
26. 右圖是產品的價格，弟弟買了蛋糕和拼圖，

一共花了多少元？

- (1) 45 (2) 100 (3) 115 (4) 150



30 元



85 元



25 元

27. 小洋每天花 65 元，7 天共花了多少元？

- (1) 58 (2) 72 (3) 425 (4) 455

28. 校慶園遊會是 3 月 29 日，今天是 3 月 6 日，請問再過幾天就要舉辦園遊會？

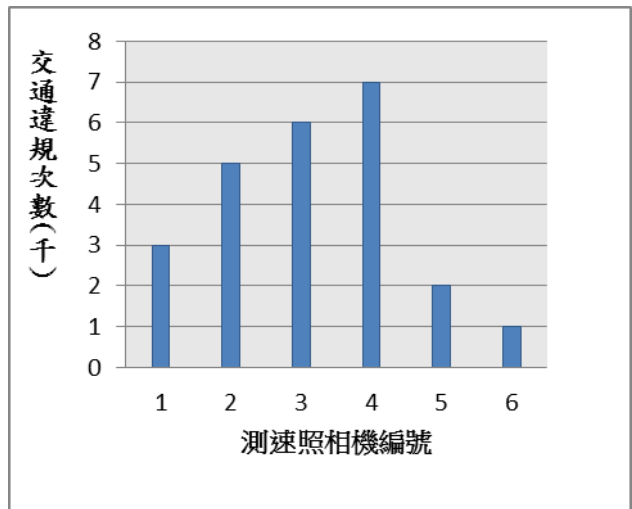
- (1) 13 (2) 23 (3) 26 (4) 29

29. 一臺小電扇 360 元，俊麟買了 3 臺，分 9 期付款，每期要付多少元？

- (1) 36 (2) 100 (3) 120 (4) 360

~下頁還有題目，請繼續作答~

30. 右圖是快樂市6支測速照相機所拍攝到12月份的交通違規次數長條圖，請問編號 1 和編號 2 的測速照相機總共拍到交通違規幾千次？



- (1) 3 (2) 5
 (3) 7 (4) 8

社會適應

31. 有偉喜歡看右圖這類的書籍，請問下列哪一項講座最能滿足他的興趣？

- (1) 「向運動傷害說掰掰」
 (2) 「用園藝享受生活」
 (3) 「手作廚房美味料理」
 (4) 「投資理財趁現在」



32. 下列選項中，哪一個玩遊戲者的想法最不恰當？

- (1) 「玩遊戲一定要贏才行。」
 (2) 「玩遊戲順便培養感情。」
 (3) 「多向別人學習也不錯。」
 (4) 「玩遊戲交朋友很划算。」

~下頁還有題目，請繼續作答~

33. 右圖是國三千惠因為遲交畢業旅行費用被懲罰時生氣的想法。從這個事件可知，

下列哪一種特質是千惠最需要加強的？

- (1) 責任感
- (2) 正義感
- (3) 服務熱忱
- (4) 社交技巧



34. 老師推薦小洪代表學校參加游泳比賽，小洪應該怎麼想最為正向？

- (1) 「沒有人要參加才會選我！」
- (2) 「我要努力練習爭取好成績！」
- (3) 「我游得不好不要叫我去！」
- (4) 「老師幹嘛不叫別人去比賽！」

35. 正確執行洗手步驟，可以讓你遠離病源。請問下列哪一個選項是洗手五步驟中的最後一個動作？

- (1)
- (2)
- (3)
- (4)



36. 下列何者是杜絕黑心食品的積極作法？

- (1) 媒體多加報導
- (2) 政府官員下台
- (3) 老闆登報道歉
- (4) 加強立法執法

~下頁還有題目，請繼續作答~

37. 阿強常被酗酒的老爸毆打，他可以尋求下列哪一項法律的保護？

- (1) 勞動基準法 (2) 兩性平等工作法
(3) 消費者保護法 (4) 家庭暴力防治法

38. 下列哪一種飲料不含咖啡因，睡前飲用較不會引起失眠？

- (1) 奶茶 (2) 熱可可 (3) 豆漿 (4) 可樂

39. 身份證遺失時可以到哪裡申請補發？

- (1) 縣市政府 (2) 當地警察局 (3) 便利商店 (4) 戶政事務所

40. 購買生鮮食品時，應該注意的事項中較不需要考慮下列哪一項？

- (1) 保存期限 (2) 包裝精美 (3) 保存溫度 (4) 食品顏色

41. 期末教室大掃除，下列哪一項作法是正確的？

- (1) 用肥皂水刷洗木地板 (2) 用鋼絲刷刷洗玻璃
(3) 用長柄掃把清天花板 (4) 用舊報紙擦拭黑板

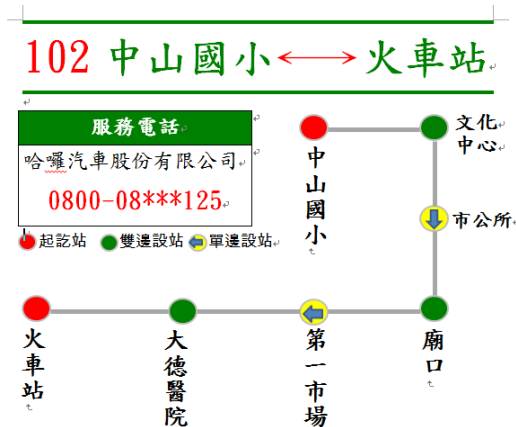
42. 下列何者是過期感冒藥的最佳處理方式？

- (1) 冰在冰箱冷藏保存 (2) 留給感冒的家人吃
(3) 當作廚餘做成肥料 (4) 拿至醫院進行回收

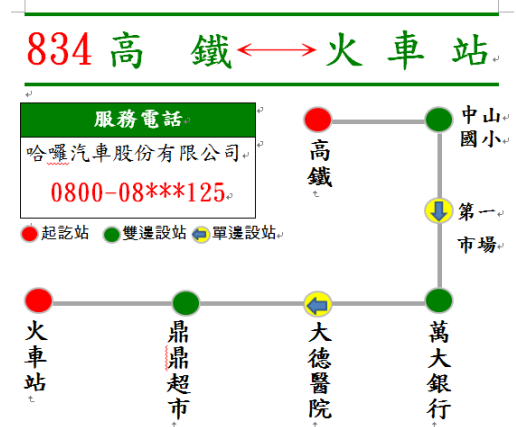
~下頁還有題目，請繼續作答~

43. 小明家住中山國小附近，他想要至大德醫院看醫生，請問他不能搭乘下列哪一班公車？

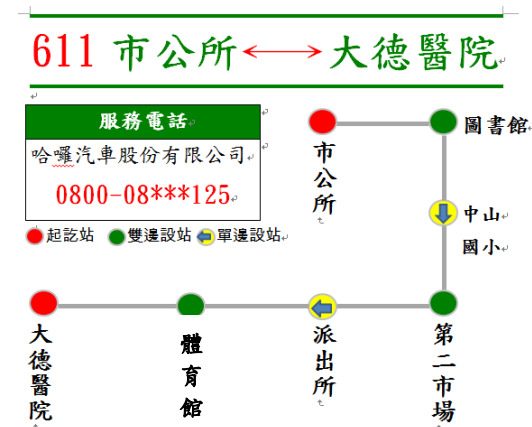
(1)



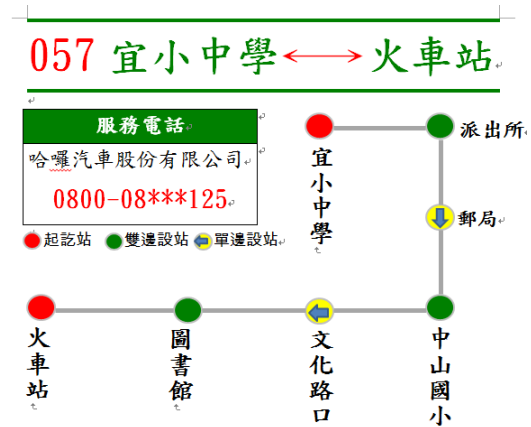
(2)



(3)



(4)



44. 在公共場所看見右圖這個符號，代表什麼意思？

- (1) 提供無線網路可分享
- (2) 附近有雷達偵測系統
- (3) 新型超音波掃描裝置
- (4) 電磁波高度汙染地區



~下頁還有題目，請繼續作答~

45. 下列哪一項不是「職業陷阱」的特徵？

- (1) 公司名稱模糊不清 (2) 職務內容不明確
(3) 限定學歷專業技能 (4) 工作輕鬆薪水高

46. 下列哪一種能源製造的方式最容易造成環境污染？

- (1) 火力發電 (2) 風力發電 (3) 水力發電 (4) 太陽能發電

47. 下列哪一種作法比較容易吃到有毒的塑化劑？

- (1) 用保鮮膜包水果 (2) 用塑膠袋裝熱湯
(3) 用鐵鍋盛裝熱食 (4) 用紙袋裝麵包

48. 小均在網路上不斷被同學用言語攻擊，長達一學期，請問下列小均的作法何者不適當？

- (1) 邀好友一起以言語反擊 (2) 撥打教育部反霸凌專線
(3) 於校園生活問卷中提出 (4) 立刻向導師或家長反映

49. 下列哪一項職務是屬於中央公職人員？

- (1) 村里長 (2) 立法委員 (3) 縣市長 (4) 縣市議員

50. 小華從小就喜歡敲敲打打、組裝拼圖和玩具，他未來可以考慮從事下列哪一類工作比較適合？

- (1) 餐飲服務員 (2) 生態解說員 (3) 汽車維修員 (4) 保險業務員

~題目到此結束~